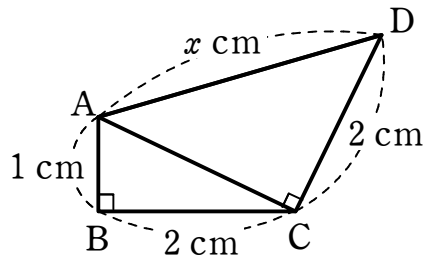


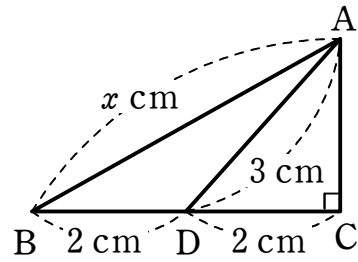
三平方の定理⑤

1 次の図において、 x の値を求めなさい。

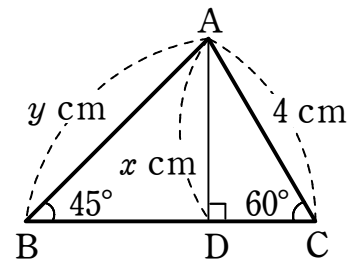
(1)



(2)



2 右の図において、 x 、 y の値を求めなさい。



3 底面の半径が 1 cm で、高さが $\sqrt{15}\text{ cm}$ である円錐の表面積を求めなさい。