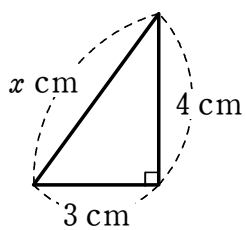


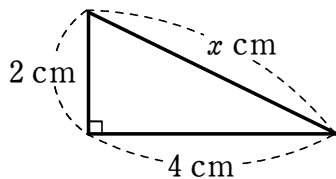
三平方の定理①

1 次の図において、 x の値を求めなさい。

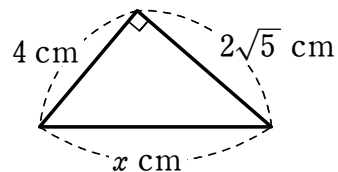
(1)



(2)

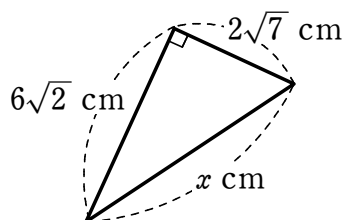


(3)

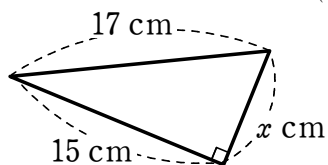


2 次の図において、 x の値を求めなさい。

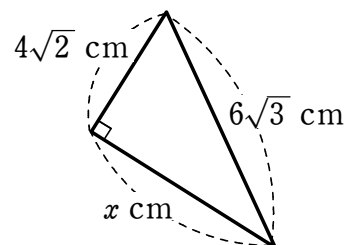
(1)



(2)

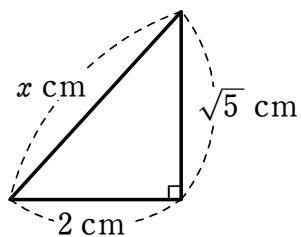


(3)



3 次の図において、 x の値を求めなさい。

(1)



(2)

