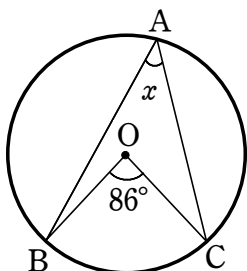


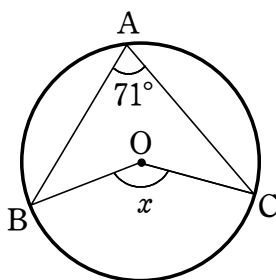
円周角の定理①

1 次の図において、 $\angle x$ の大きさを求めなさい。

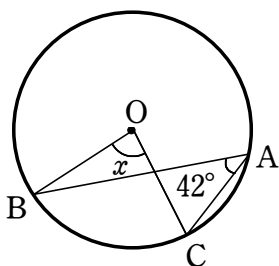
(1)



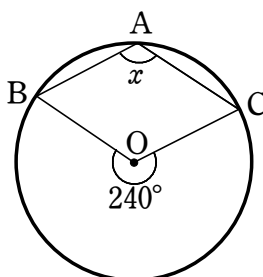
(2)



(3)

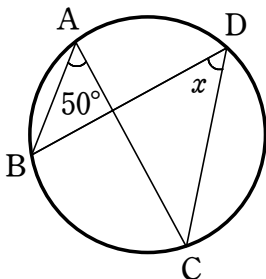


(4)

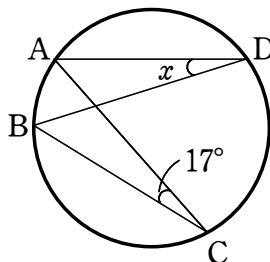


2 次の図において、 $\angle x$ の大きさを求めなさい。

(1)



(2)



3 右の図において、 $\angle x$ 、 $\angle y$ の大きさを求めなさい。

