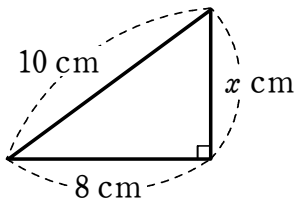


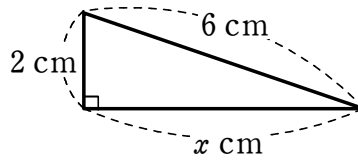
三平方の定理②

1 次の図において、 x の値を求めなさい。

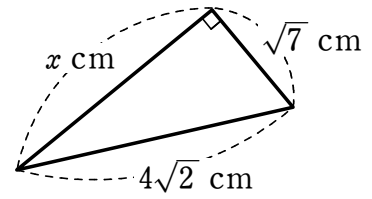
(1)



(2)

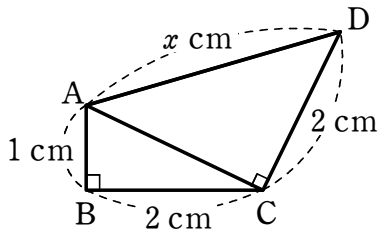


(3)

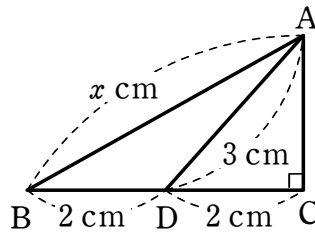


2 次の図において、 x の値を求めなさい。

(1)

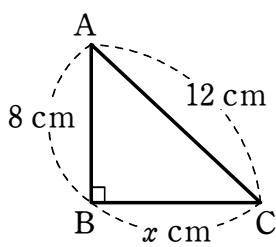


(2)

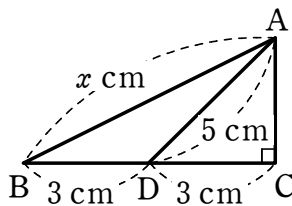


3 次の図において、 x の値を求めなさい。

(1)



(2)



(3)

