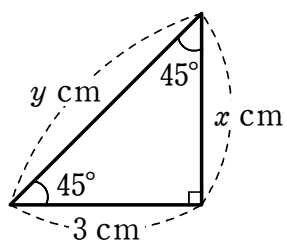


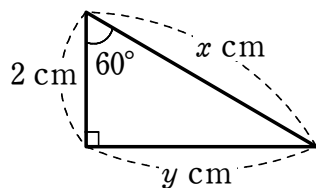
# 平面図形への利用①

1 次の図において、 $x$ 、 $y$  の値を求めなさい。

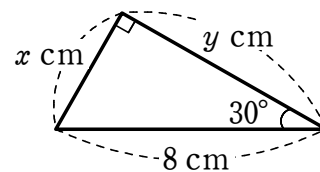
(1)



(2)

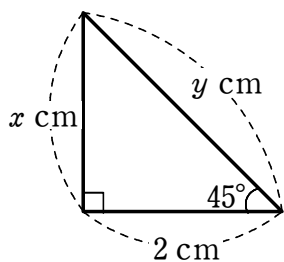


(3)

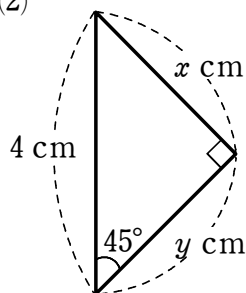


2 次の図において、 $x$ 、 $y$  の値を求めなさい。

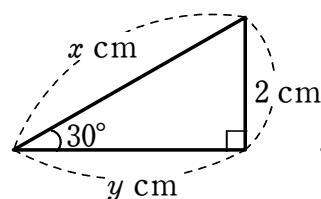
(1)



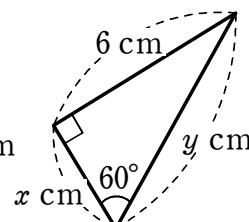
(2)



(3)



(4)



3 右の図において、 $x$ 、 $y$  の値を求めなさい。

