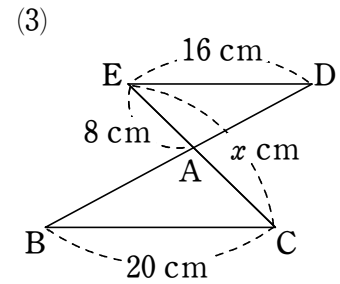
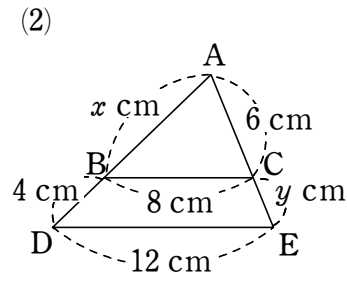
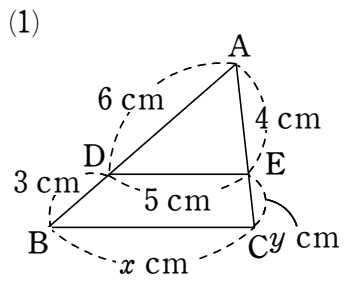
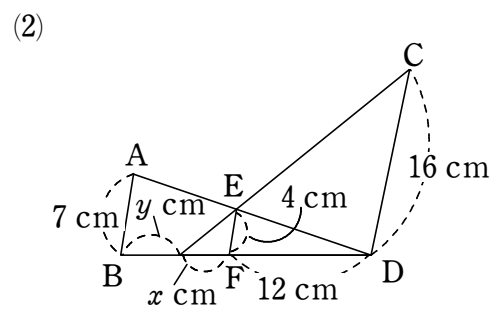
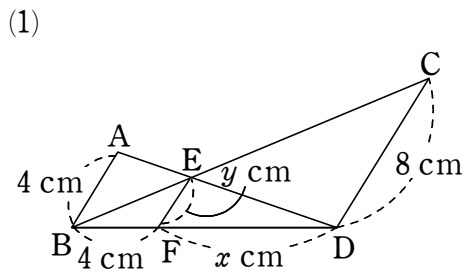


三角形と比②

1 次の図において、 $DE \parallel BC$ のとき、 x, y の値を求めなさい。



2 次の図において、 $AB \parallel EF \parallel CD$ のとき、 x, y の値を求めなさい。



3 右の図において、 $DE \parallel BC$ であるとき、 x, y の値を求めなさい。

