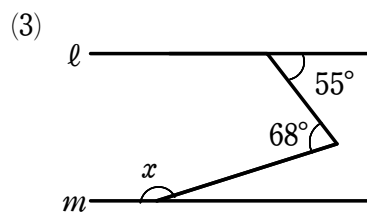
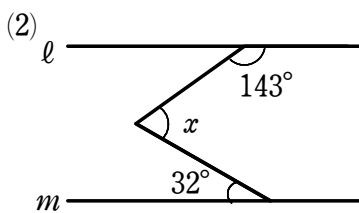
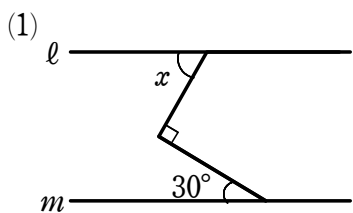


図形の性質（平行線の錯角と同位角）

1 次の図において、 $l \parallel m$ のとき、 $\angle x$ の大きさを求めなさい。



2 次の図において、 $l \parallel m$ のとき、 $\angle x$ の大きさを求めなさい。

