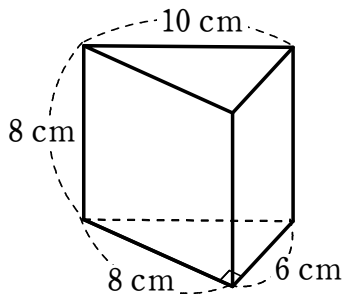


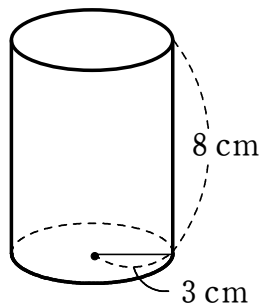
立体の表面積

1 次の立体の表面積を求めなさい。

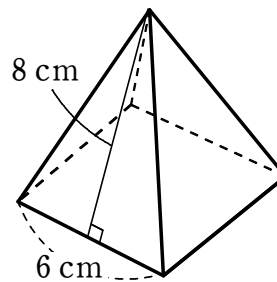
(1) 三角柱



(2) 円柱



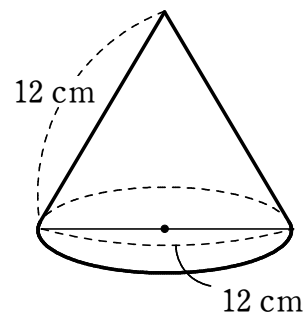
(3) 正四角錐



2 右の図のような円錐について、次の問いに答えなさい。

(1) 側面積を求めなさい。

(2) 表面積を求めなさい。



(3) 側面のおうぎ形の中心角の大きさを求めなさい。