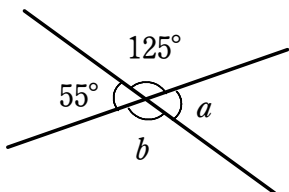


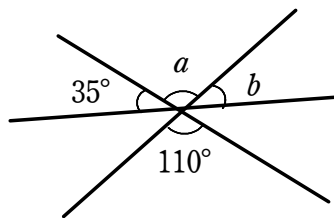
図形の性質（対頂角・錯角・同位角）

1 次の図において、 $\angle a$ 、 $\angle b$ の大きさを求めなさい。

(1)

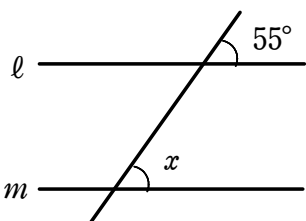


(2)

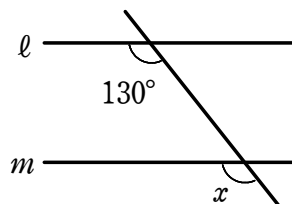


2 次の図において、 $l \parallel m$ のとき、 $\angle x$ の大きさを求めなさい。

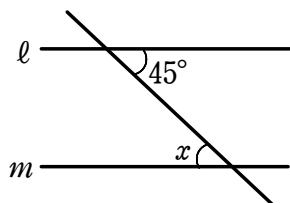
(1)



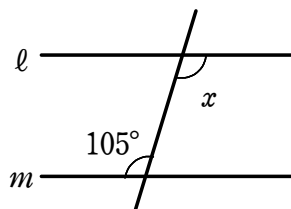
(2)



(3)

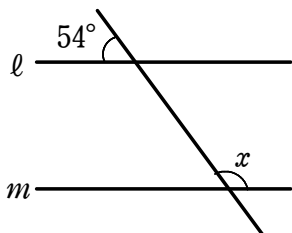


(4)

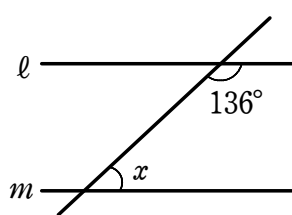


3 次の図において、 $l \parallel m$ のとき、 $\angle x$ の大きさを求めなさい。

(1)



(2)



(3)

