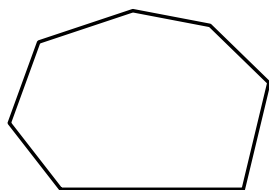


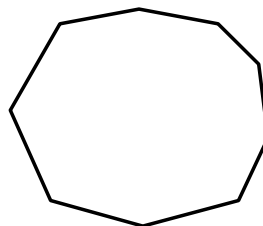
図形の性質（多角形）

1 次の多角形の内角の和を求めなさい。

(1) 七角形



(2) 九角形



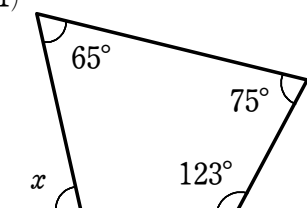
2 次の問いに答えなさい。

(1) 正十二角形の1つの内角の大きさを求めなさい。

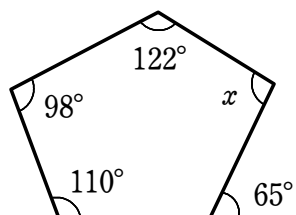
(2) 内角の和が 2160° である多角形は何角形ですか。

3 次の図において、 $\angle x$ の大きさを求めなさい。

(1)



(2)



(3)

