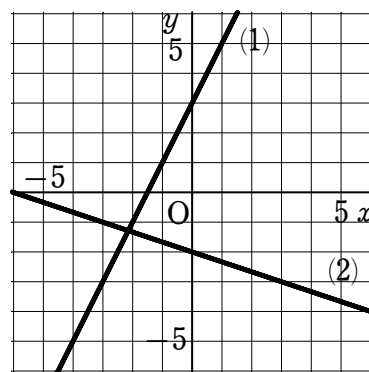


1次関数（グラフから1次関数の式を求める）

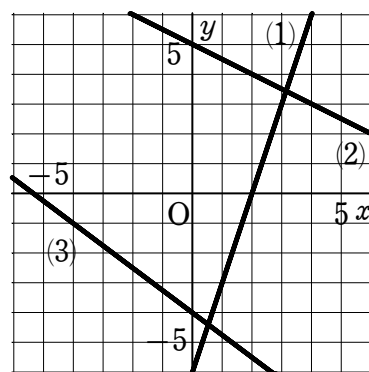
1 グラフが右の図の (1), (2) の直線になる 1 次関数の式をそれぞれ求めなさい。



(1)

(2)

2 グラフが右の図の (1) ~ (3) の直線になる 1 次関数の式をそれぞれ求めなさい。

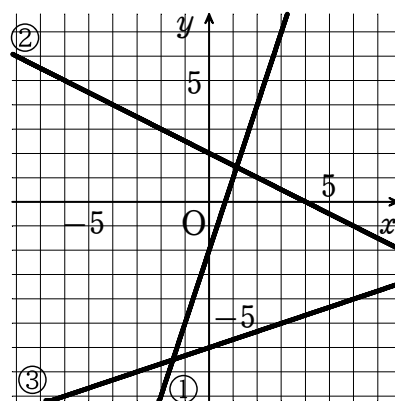


(1)

(2)

(3)

3 右の図は 3 つの 1 次関数 ①, ②, ③ のグラフである。
これらの 1 次関数の式を求めなさい。



①

②

③