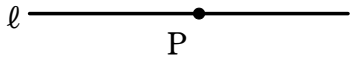


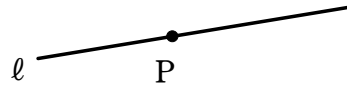
作図②

1 次の図において、点 P を通る直線 l の垂線を作図しなさい。

(1)



(2)




2 次の図において、点 P を通る直線 l の垂線を作図しなさい。

(1)

P•



(2)



P•

3 右の図の $\triangle ABC$ について、辺 AC 上にある点 P と頂点 B を結んで、 $\triangle ABC$ の面積を 2 等分する線分 BP を作図しなさい。

