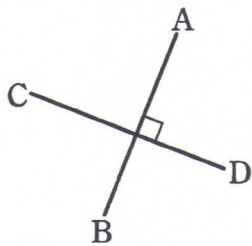


直線と角

1 次の図について、 にあてはまる記号を入れなさい。

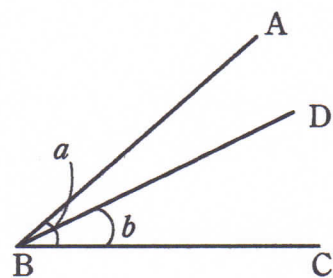
(1) AB CD



(2) EF GH



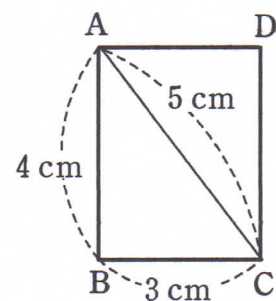
2 右の図において、 $\angle a$ 、 $\angle b$ を A、B、C、D を用いて表しなさい。



3 右の図の長方形 ABCD について、次の問いに答えなさい。

(1) $\angle B$ の大きさを、等式の形で表しなさい。

(2) 辺 AB と垂直または平行な辺を、すべて記号を使って表しなさい。



(3) 2点 C、D 間の距離を求めなさい。