


作図①

1 次の図において、線分 AB の垂直二等分線を作図しなさい。

(1)

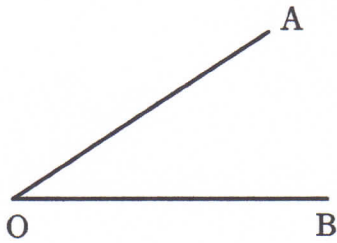


(2)

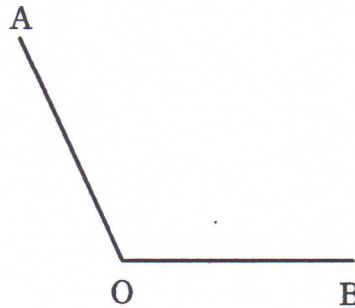


2 次の図において、 $\angle AOB$ の二等分線を作図しなさい。

(1)



(2)



3 下の図の $\triangle ABC$ において、次の作図をしなさい。

(1) 辺 AC の中点 M

(2) $\angle A$ の二等分線

