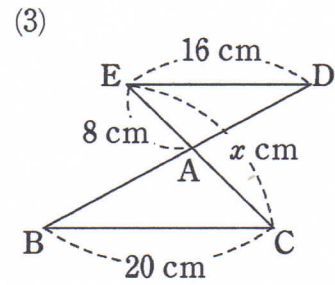
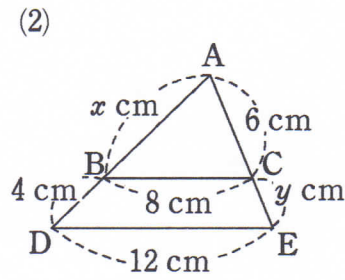
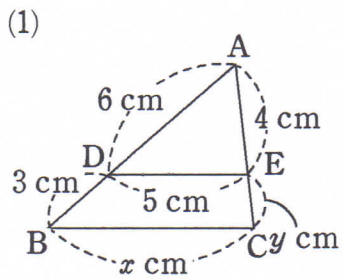
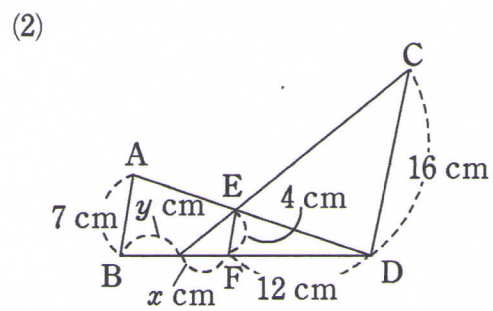
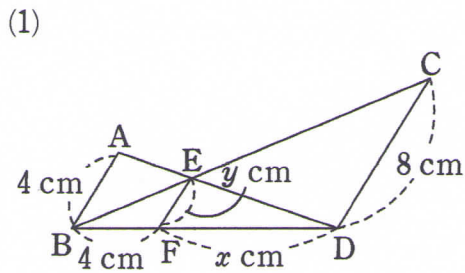


## 三角形と比②

1 次の図において、 $DE \parallel BC$  のとき、 $x, y$  の値を求めなさい。



2 次の図において、 $AB \parallel EF \parallel CD$  のとき、 $x, y$  の値を求めなさい。



3 右の図において、 $DE \parallel BC$  であるとき、 $x, y$  の値を求めなさい。

