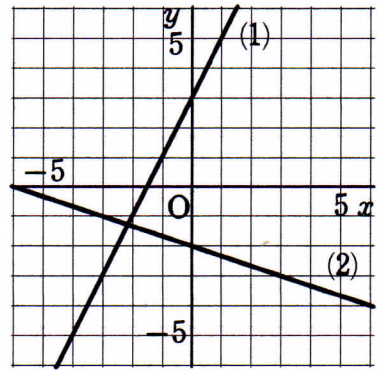


1次関数（グラフから1次関数の式を求める）

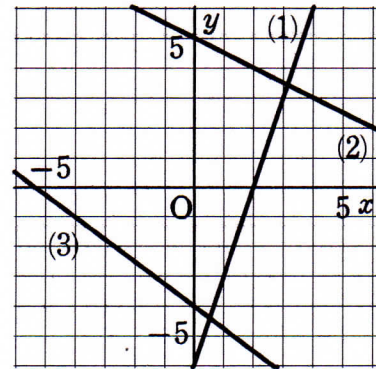
1 グラフが右の図の(1), (2)の直線になる1次関数の式をそれぞれ求めなさい。



(1)

(2)

2 グラフが右の図の(1)～(3)の直線になる1次関数の式をそれぞれ求めなさい。

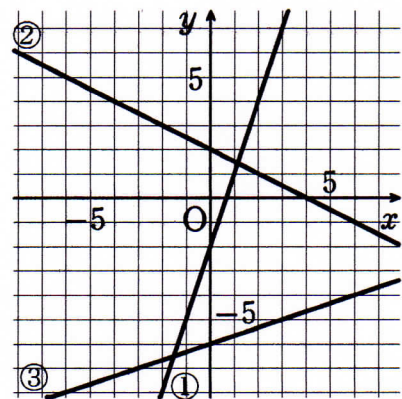


(1)

(2)

(3)

3 右の図は3つの1次関数①, ②, ③のグラフである。
これらの1次関数の式を求めなさい。



①

②

③